

but-1

## ESAME DI STATO

### PER L'ABILITAZIONE PROFESSIONALE ALL'ESERCIZIO DELLA PROFESSIONE DI ARCHITETTO

#### SEZIONE VECCHIO ORDINAMENTO

#### PROVA PRATICA

15 GIUGNO 2010

##### Tema 1

Il candidato progetti in un lotto pianeggiante di m 45,50 x 25,60, sito in un quartiere residenziale periferico e servito su uno dei lati brevi da una strada di penetrazione orientata Nord-Sud, una biblioteca di quartiere, del tipo a "consultazione a scaffale" (per un massimo di 35.000 volumi), destinata ad un'utenza massima di 30 lettori (5 postazioni informatiche, 20 postazioni di studio, 5 posti a sedere per consultazioni brevi). La costruzione deve essere ad un solo piano e fornita di una piccola sala per la consultazione degli audiovisivi, di ambienti idonei per il personale amministrativo (3 addetti) e di servizi igienici e tecnici. La parte restante del lotto deve essere sistemata a giardino con attrezzature per la lettura nei mesi estivi.

Elaborati richiesti:

- un tavola che illustri i criteri distributivi e funzionali, anche mediante grafici e schizzi planivolumetrici alla scala ritenuta più opportuna
- planimetria in scala 1:100
- due sezioni significative e un prospetto in scala 1:100
- un dettaglio tecnologico a scelta in scala 1: 5, debitamente quotato
- relazione tecnica comprensiva di tabelle riassuntive dei dati metrici e quantitativi ed illustrativa delle destinazioni funzionali, delle scelte strutturali e tecnologiche, dei materiali impiegati (max. 2 pagine di foglio protocollo)

##### Tema 2

Il candidato progetti un edificio a funzione produttiva di medie dimensioni entro un lotto di m 40,00 x 50,00 orientato Nord-Sud secondo il lato minore, il lato lungo è limitare ad una strada urbana con carreggiata unica a due corsie. Il lotto è sito in zona periferica destinata da P.R.G. ad attività artigianali.

Il candidato deve tenere conto delle seguenti prescrizioni:

indice di fabbricabilità: 3,00, con altezza 10,00 m.

superficie totale: 200,00 mq

piani: 2 (al pt devono essere previsti: una sala-mostra, due uffici, una sala per riunioni)

servizi igienici e locali accessori: come da norme


Elaborati richiesti:

- planivolumetria generale del lotto in scala 1:200
- planimetria dei due piani in scala 1:100
- due sezioni significative ed un prospetto in scala 1: 100
- un dettaglio costruttivo a scelta in scala 1:5, debitamente quotato
- relazione tecnica comprensiva di tabelle riassuntive dei dati metrici e quantitativi ed illustrativa delle destinazioni funzionali, delle scelte strutturali e tecnologiche, dei materiali impiegati (max. 2 pagine di foglio protocollo)

##### Tema 3

Il candidato una relazione illustrativa del percorso progettuale e gli elaborati grafici di larga massima, nelle scale più opportune, per l'organizzazione di un nuovo insediamento residenziale caratterizzato dai seguenti parametri:

- area d'impianto pianeggiante, nel fondovalle, attraversata da un percorso rotabile secondario;
- presenza di un piccolo corso d'acqua che interseca il lotto edificabile;
- superficie totale disponibile mq 25.000;
- volume massimo residenziale realizzabile: mc. 6.500;
- utilizzo attuale del terreno: seminativo irriguo;
- orientamento del percorso stradale: da est a ovest;
- orientamento del rio: da nord a sud.



ESAME DI STATO

PER L'ABILITAZIONE PROFESSIONALE ALL'ESERCIZIO DELLA PROFESSIONE DI ARCHITETTO

SEZIONE A - ARCHITETTURA

PROVA PRATICA

15 GIUGNO 2010

**Tema 1**

Il candidato progetti - una stazione di servizio per autovetture, comprensiva di autolavaggio, servizi igienici e di ristorazione ed un ufficio entro un lotto di m. 35 x 31 collocato all'incrocio di due strade comunali, confinante sugli altri due lati con lotti destinati ad attività produttive e commerciali.

Elaborati richiesti:

- schemi organizzativi e funzionali alla scala ritenuta più adeguata
- schemi distributivi in scala 1:200
- planimetria, prospetti e sezioni (trasversale e longitudinale) in scala 1:100, debitamente quotate
- un dettaglio costruttivo-tecnologico in scala 1: 5.

**Tema 2**

Il candidato predisponga gli elaborati grafici di larga massima, nelle scale più opportune, per l'organizzazione urbanistica di un nuovo insediamento residenziale caratterizzato dai seguenti parametri:

- area di impianto di mezza costa, attraversata da un percorso rotabile secondario;
- pendenza media del terreno: 10%
- presenza, a metà dell'area, della profonda incisione di un piccolo corso d'acqua;
- superficie totale disponibile: mq. 20.000;
- volume massimo residenziale realizzabile: mc. 5.000;
- utilizzo del terreno: oliveto terrazzato;
- esposizione: a ovest.

**Tema 3**

Il candidato progetti una casa di 150 mq su due livelli (di cui uno seminterrato, con due posti macchina e locali tecnici, con due posti macchina e locali tecnici, la cui metratura rientra nei 150 mq indicati) per una famiglia di 5 persone in un lotto rettangolare di m. 30,00 x 60,00, il cui lato lungo è in leggero declivio sull'asse Nord/Sud, parallelo al lato maggiore (dislivello fra le due quote: m. 2,20); il lotto confina a Nord con la strada carrabile di lottizzazione, a Sud con un'area destinata a verde di rispetto dal PRG, ad Est ed Ovest con lotti della stesse dimensioni e destinazioni.

Elaborati richiesti::

- la planimetria generale della sistemazione del lotto, alla scala ritenuta più adeguata,
- piante, sezioni e prospetti necessari e sufficienti in scala 1:100; la planimetria deve essere debitamente quotata;
- un dettaglio costruttivo significativo rappresentato in scala 1:20 e debitamente quotato.

ESAME DI STATO

PER L'ABILITAZIONE PROFESSIONALE ALL'ESERCIZIO DELLA PROFESSIONE DI ARCHITETTO

SEZIONE A - ARCHITETTURA

PRIMA PROVA SCRITTA

15 GIUGNO 2010

**Tema 1**


Il candidato rediga una sintetica relazione (max. 2 pagine di foglio protocollo) giustificativa dei seguenti punti: dimensionamento insediativo-tipologico e strutturale e comprensiva delle scelte impiantistiche, tecnico-costruttive e relative ai materiali, nonché dei criteri di scelta concernenti le tecnologie per il contenimento dei consumi energetici.

**Tema 2**

Il candidato rediga una sintetica relazione (max. 2 pagine di foglio protocollo) giustificativa dei seguenti punti: dimensionamento insediativo-tipologico e le scelte impiantistiche, nonché i criteri di scelta concernenti le tecnologie per il contenimento dei consumi energetici.

**Tema 3**

Il candidato rediga una sintetica relazione (max. 2 pagine di foglio protocollo) giustificativa dei seguenti punti: dimensionamento insediativo-tipologico e strutturale e comprensiva delle scelte impiantistiche, tecnico-costruttive e relative ai materiali, nonché dei criteri di scelta concernenti le tecnologie per il contenimento dei consumi energetici.



Handwritten signatures and initials at the bottom of the page, including a large stylized signature and several smaller ones.

but = 1

## ESAME DI STATO

### PER L'ABILITAZIONE PROFESSIONALE ALL'ESERCIZIO DELLA PROFESSIONE DI ARCHITETTO

#### SEZIONE A - PAESAGGIO

#### PROVA PRATICA

15 GIUGNO 2010

##### Tema 1

Il candidato predisponga una relazione illustrativa e gli elaborati grafici di larga massima, nelle scale più opportune, per la progettazione di un nuovo parco urbano e giardino pubblico di un'area localizzata nell'immediata periferia di un centro urbano. Il progetto dovrà comprendere una relazione illustrativa del percorso progettuale e gli elaborati grafici di larga massima, nelle scale più opportune, necessarie all'individuazione delle scelte paesistiche adottate. Il terreno disponibile è caratterizzato dai seguenti parametri:

- area d'impianto di crinale attraversata da un percorso pedonale lungo la linea di dislivello;
- presenza di terrazzamenti su entrambi i versanti del terreno;
- superficie totale disponibile: mq. 15.000;
- utilizzo attuale del terreno: orto e frutteto;
- orientamento del crinale: sud;
- pendenza media del percorso pedonale: 15%.

##### Tema 2

Il candidato progetti la sistemazione a giardino dell'area di accesso ad un parco naturale, collocata in un lotto rettangolare di terreno (misure m. 350 x 175, lato minore orientato Nord-Sud), già destinato ad uso agricolo, collocato sul lato lungo meridionale a ridosso di un parcheggio (m. 350 x 25) che è servito da una strada provinciale, chiuso sui restanti tre lati da un bosco. Il terreno ha pendenza, omogenea per l'intero tratto, del 6,0%, disposta parallelamente al lato maggiore. Il giardino dovrà essere dotato dei servizi minimi necessari alle sue funzioni di accesso del pubblico in visita al parco naturale.


Elaborati richiesti:

- schemi organizzativi e funzionali alla scala ritenuta più adeguata, comprensivi di tabelle riassuntive dei dati metrici e quantitativi ed illustrativa delle destinazioni funzionali, delle scelte tecnologiche, dei materiali impiegati, degli elementi di arredo e delle essenze arboree e floristiche utilizzate
- planimetria dell'aiuola alla scala ritenuta più adeguata
- sezione trasversale ed un profilo significativo, alla scala adeguata
- due diversi dettagli in scala 1:20, debitamente quotati

##### Tema 3

Il candidato progetti la sistemazione a parco urbano e giardino pubblico di un'area localizzata nell'immediata periferia di un grande agglomerato urbano. Il progetto dovrà comprendere una relazione illustrativa del percorso progettuale e gli elaborati grafici di larga massima, nelle scale più opportune, necessarie alla chiara individuazione delle scelte paesistiche adottate. Il terreno disponibile è caratterizzato dai seguenti parametri:

- area d'impianto pianeggiante, nel fondovalle, attraversata da un percorso rotabile secondario;
- presenza di un piccolo corso d'acqua che interseca il lotto edificabile;
- superficie totale disponibile mq 25.000
- utilizzo attuale del terreno: seminativo irriguo;
- orientamento del percorso stradale: da est a ovest;
- orientamento del rio: da nord a sud.



## ESAME DI STATO

## PER L'ABILITAZIONE PROFESSIONALE ALL'ESERCIZIO DELLA PROFESSIONE DI ARCHITETTO

## SEZIONE A – PIANIFICAZIONE TERRITORIALE

## PROVA PRATICA

15 GIUGNO 2010

## Tema 1


Il candidato predisponga una relazione illustrativa e gli elaborati grafici di larga massima, nelle scale più opportune, per l'organizzazione urbanistica di un nuovo insediamento residenziale caratterizzato dai seguenti parametri:

- area di impianto di mezza costa, attraversata da un percorso rotabile secondario;
- pendenza media del terreno: 10%
- presenza, a metà dell'area, della profonda incisione di un piccolo corso d'acqua;
- superficie totale disponibile: mq. 20.000;
- volume massimo residenziale realizzabile: mc. 5.000;
- utilizzo del terreno: oliveto terrazzato;
- esposizione: a ovest.

## Tema 2

Il candidato predisponga una relazione illustrativa e gli elaborati grafici di larga massima, nelle scale più opportune, per l'organizzazione urbanistica di un nuovo parco urbano e giardino pubblico di un'area localizzata nell'immediata periferia di un centro urbano. Il progetto dovrà comprendere una relazione illustrativa del percorso progettuale e gli elaborati grafici di larga massima, nelle scale più opportune, necessarie all'individuazione delle scelte paesistiche adottate. Il terreno disponibile è caratterizzato dai seguenti parametri:

- area d'impianto di crinale attraversata da un percorso pedonale lungo la linea di dislivello;
- presenza di terrazzamenti su entrambi i versanti del terreno;
- superficie totale disponibile: mq. 15.000;
- utilizzo attuale del terreno: orto e frutteto;
- orientamento del crinale: sud;
- pendenza media del percorso pedonale: 15%.

The image shows three handwritten signatures or initials in black ink. The first signature on the left is a cursive name, possibly 'F. L.'. The second signature in the middle is a stylized name, possibly 'M. L.'. The third signature on the right is a large, bold, stylized initial, possibly 'R'.

## ESAME DI STATO

PER L'ABILITAZIONE PROFESSIONALE ALL'ESERCIZIO DELLA PROFESSIONE DI ARCHITETTO

## SEZIONE A – ARCHITETTURA

## 2° PROVA SCRITTA

16 GIUGNO 2010

**Tema 1**

L'industrializzazione dell'impresa edilizia.

Attraverso l'elaborazione di una mappa concettuale o una "scaletta" o con diagrammi (a flusso o ad albero), della lunghezza di una pagina protocollo, il candidato individui ed illustri sinteticamente le origini e lo sviluppo (dal XIX secolo alla prima metà del XX) nonché gli aspetti teorici più importanti del fenomeno. Successivamente approfondisca l'analisi di almeno tre esempi (lunghezza massima: dieci righe per ogni esempio).

**Tema 2**

Lo sviluppo delle costruzioni a struttura metallica in Europa fra la fine del XVIII e la prima metà del XIX secolo.

Attraverso l'elaborazione di una mappa concettuale (o con diagrammi, a flusso o ad albero), della lunghezza di una pagina protocollo, il candidato individui ed illustri sinteticamente gli aspetti più importanti del fenomeno. Successivamente approfondisca l'analisi di almeno tre esempi (lunghezza massima: dieci righe per ogni esempio).


**Tema 3**

Il candidato illustri le principali teorie urbanistiche in Italia, fra la seconda metà del XIX secolo e la prima metà del XX secolo.

Attraverso l'elaborazione di una mappa concettuale (o con diagrammi, a flusso o ad albero), della lunghezza di una pagina protocollo, il candidato illustri sinteticamente gli aspetti teorici fondamentali.

Successivamente approfondisca l'analisi di almeno tre esempi (lunghezza massima: dieci righe per ogni esempio).

**N.B.: Si richiede una scrittura chiaramente leggibile.**



posta 1

## ESAME DI STATO

PER L'ABILITAZIONE PROFESSIONALE ALL'ESERCIZIO DELLA PROFESSIONE DI ARCHITETTO

SEZIONE A – PAESAGGISTICA

PROVA SCRITTA

16 GIUGNO 2010

### Tema 1

L'evoluzione delle politiche di tutela del paesaggio in Italia dal 1939 al 2004.

Attraverso l'elaborazione di una mappa concettuale (oppure con una "scaletta" o con diagrammi, a flusso o ad albero), della lunghezza di una pagina protocollo, il candidato illustri sinteticamente l'evoluzione del fenomeno. Successivamente approfondisca l'analisi di tre momenti particolarmente significativi (lunghezza massima: dieci righe per ogni esempio)

### Tema 3

Il giardino barocco in Europa.


Attraverso l'elaborazione di una mappa concettuale (oppure con una "scaletta" o con diagrammi, a flusso o ad albero), della lunghezza di una pagina protocollo, il candidato illustri lo sviluppo del fenomeno ed i suoi aspetti caratterizzanti. Successivamente approfondisca la trattazione di tre esempi (lunghezza massima: dieci righe ad esempio).

### Tema 3

L'azione dell'UNESCO a sostegno della tutela del "Paesaggio culturale" (*Cultural Landscape*).

Attraverso l'elaborazione di una mappa concettuale (oppure con una "scaletta" o con diagrammi, a flusso o ad albero), della lunghezza di una pagina protocollo, il candidato illustri lo sviluppo del fenomeno ed i suoi aspetti caratterizzanti. Successivamente approfondisca la trattazione di tre esempi (lunghezza massima: dieci righe ad esempio).

**N.B.: Si richiede una scrittura chiaramente leggibile.**



ESAME DI STATO

PER L'ABILITAZIONE PROFESSIONALE ALL'ESERCIZIO DELLA PROFESSIONE DI ARCHITETTO

SEZIONE A – PIANIFICAZIONE TERRITORIALE

PROVA SCRITTA

16 GIUGNO 2010

**Tema 1**

Che tipo di strumento urbanistico è il "piano paesistico".

Attraverso l'elaborazione di una mappa concettuale (oppure con una "scaletta" o con diagrammi, a flusso o ad albero), della lunghezza di una pagina protocollo, il candidato individui ed illustri sinteticamente i temi emergenti in relazione ad almeno tre casi significativi. Successivamente approfondisca l'analisi di un esempio, eventualmente anche con l'ausilio di schemi grafici illustrativi (lunghezza massima: una pagina protocollo).

**Tema 2**

La tutela del "centro storico" nel dibattito culturale italiano dal 1970 ad oggi.

Attraverso l'elaborazione di una mappa concettuale (oppure con una "scaletta" o con diagrammi, a flusso o ad albero), della lunghezza di una pagina protocollo, il candidato individui ed illustri i temi emergenti in relazione ad almeno tre casi significativi. Successivamente approfondisca l'analisi, eventualmente anche con l'ausilio di schemi grafici illustrativi (lunghezza massima: dieci righe di testo per ogni esempio).

**N.B.: Si richiede una scrittura chiaramente leggibile.**

The image shows several handwritten signatures in blue ink. The most prominent is a large, stylized signature that appears to be 'P. P. P.' or similar, with a long horizontal stroke extending to the right. To its right is a smaller, more compact signature. Below the large signature is another signature that looks like 'Pellegrini'. At the bottom is a signature that appears to be 'Neri'.



ESAME DI STATO

PER L'ABILITAZIONE PROFESSIONALE ALL'ESERCIZIO DELLA PROFESSIONE DI ARCHITETTO

SEZIONE B – ARCHITETTURA

PROVA PRATICA

22 GIUGNO 2010

**Tema 1**

Partendo dai materiali di studio (planimetria e sezione in ALLEGATO B), il candidato sviluppi il tema della casa unifamiliare per vacanze estive al mare (tipologia serializzata ed aggregata).

Elaborati richiesti:

- planimetria quotata in scala 1:50, comprensiva di arredi e di indicazioni dei materiali:
- sezione trasversale in scala 1:50
- tre dettagli costruttivi a scelta in scala 1: 5

**Tema 2**

Partendo dai materiali di studio (planimetrie in ALLEGATO A), il candidato sviluppi il tema del piccolo giardino privato, comprensivo di vasca d'acqua per gioco dei bambini, di una casa unifamiliare a due piani per vacanze estive al mare.

Elaborati richiesti:

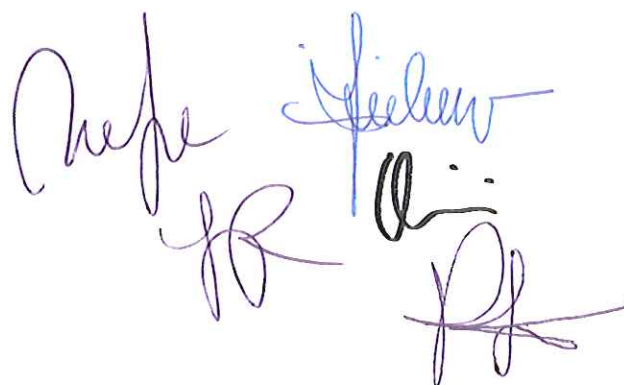
- planimetria quotata in scala 1:20 del giardino
- sezione quotata in scala 1.20 del giardino,
- tre dettagli costruttivi in scala 1:5

**Tema 3**

Il candidato progetti la copertura di protezione di uno scavo archeologico, delimitato in una trincea di misure m. 10 x 20 sita (baricentricamente) entro un'aiuola di rispetto di m. 20 x 40. Il piano dello scavo è posto a m. 1,30 sotto la quota dell'aiuola. Le strutture verticali devono essere esterne al perimetro della trincea. In assenza di tamponature la copertura deve consentire la protezione dei reperti dalla pioggia battente a vento. Per ragioni di sicurezza la trincea deve essere chiusa al pubblico da una recinzione (alta max. 1,50) che permetta la visibilità dello scavo.

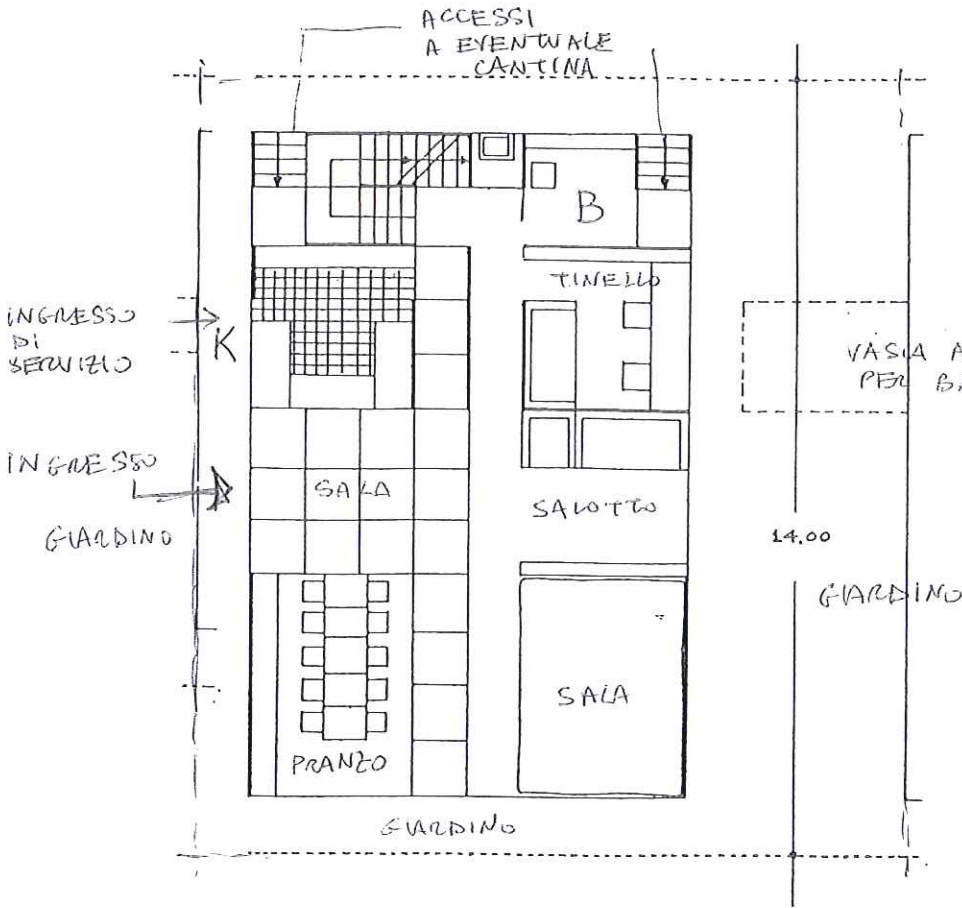
Elaborati richiesti:

- planimetria generale dell'intero lotto in scala 1:50
- sezioni trasversale e longitudinale della copertura in scala 1:50
- due dettagli costruttivi in scala 1:5

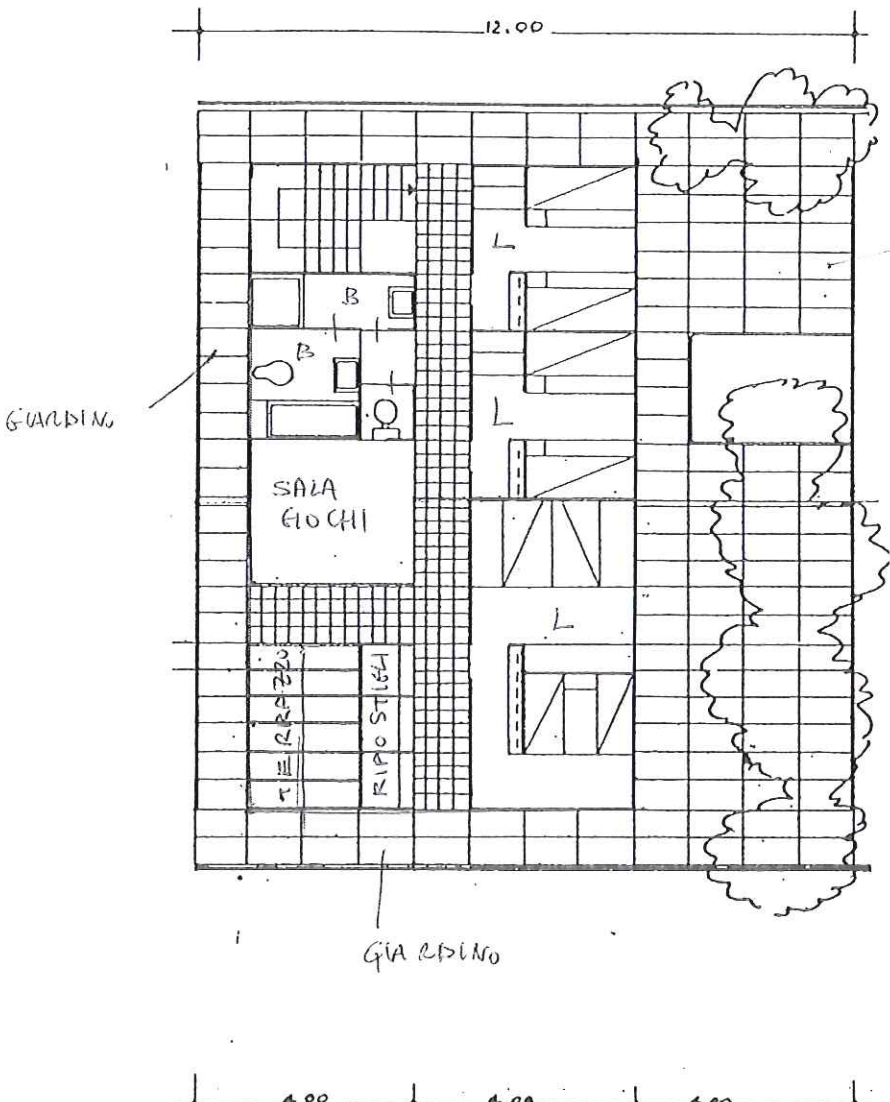


# ALLEGATO A

CASA UNIFAMILIARE  
SU DUE PIANI



*[Handwritten signature]*  
*[Handwritten signature]*  
 PIANO PRIMO  
*[Handwritten signature]*



PROIEZIONE  
GIARDINO  
DALL'ALTO

PIANO TERRA

# ALLEGATO B

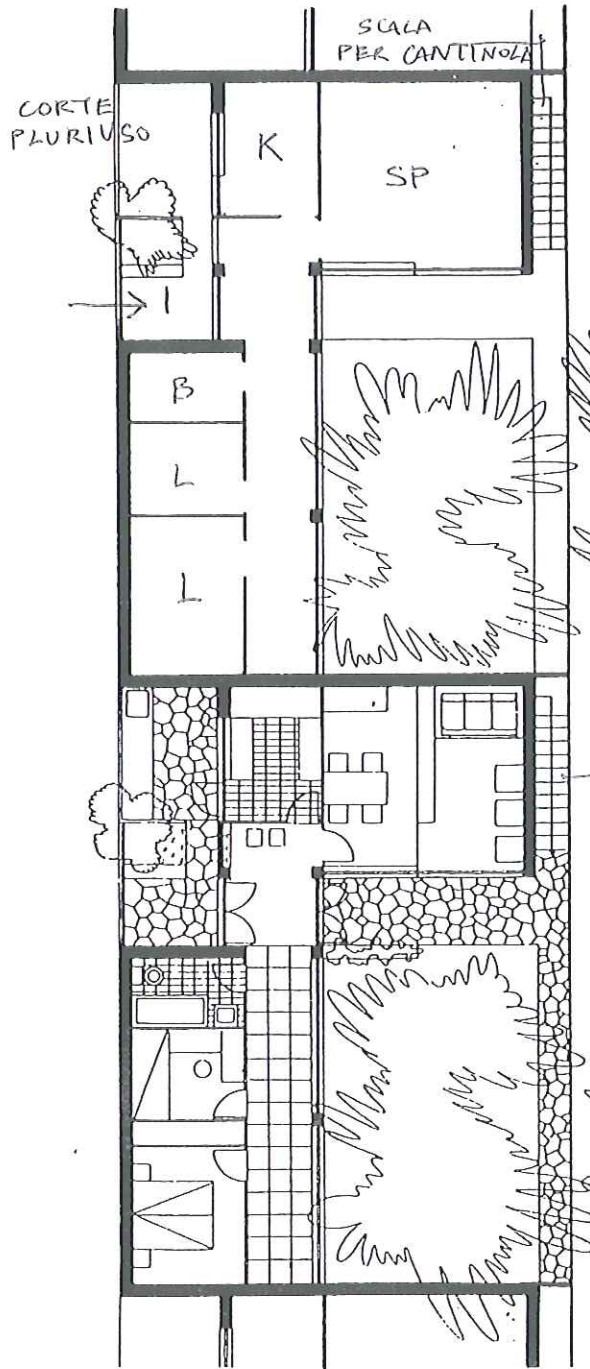
CASA UNIFAMILIARE  
PER YACANZIE  
AD UN SOLO PIANO



*[Handwritten signature]*

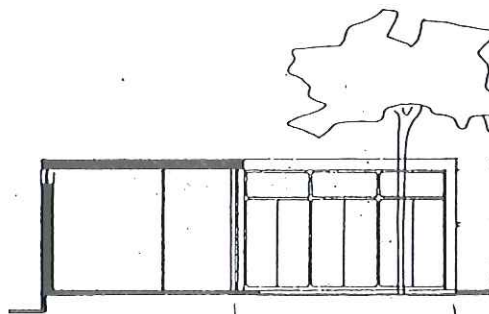
SCHEMA  
TIPOLOGICO

SCHEMA  
TIPOLOGICO  
ARREDATO



SCALA  
PER EVENTUALI  
CANTINOLA INTERRATI

*[Handwritten signature]*



EVENTUALE  
CANTINOLA INTERRATA

ESAME DI STATO

PER L'ABILITAZIONE PROFESSIONALE ALL'ESERCIZIO DELLA PROFESSIONE DI ARCHITETTO

SEZIONE B – ARCHITETTURA

PRIMA PROVA SCRITTA

22 GIUGNO 2010

**Tema 1**

Il candidato rediga la relazione tecnica relativa al tema 1 sulle scelte progettuali secondo i seguenti criteri:

- scelte strutturali;
- soluzioni tecnologiche;
- materiali;
- criteri per il risparmio energetico

**Tema 2**

Il candidato rediga la relazione tecnica relativa al tema 2 sulle scelte progettuali secondo i seguenti criteri:

- parametri progettuali
- soluzioni tecnologiche;
- materiali;
- scelta dei vari tipi di piantumazioni;

**Tema 3**

Il candidato rediga la relazione tecnica relativa al tema 3 sulle scelte progettuali secondo i seguenti parametri:

- scelte strutturali;
- soluzioni tecnologiche;
- materiali;
- considerazioni aggiuntive, generali, sulla conservazione del manufatto.

The image shows several handwritten signatures in blue and black ink. The signatures are stylized and appear to be written in a cursive or semi-cursive script. There are approximately five distinct signatures, some overlapping, located in the bottom right corner of the page.

## ESAME DI STATO

## PER L'ABILITAZIONE PROFESSIONALE ALL'ESERCIZIO DELLA PROFESSIONE DI ARCHITETTO

## SEZIONE B – PIANIFICAZIONE TERRITORIALE

## PROVA PRATICA

22 GIUGNO 2010

## Tema 1

Il candidato predisponga la planimetria e una sezione indicativa, alle scale ritenute più adeguate, dell'organizzazione urbanistica di un nuovo insediamento residenziale caratterizzato dai seguenti parametri:

- area di impianto di mezza costa, attraversata da un percorso rotabile secondario;
- pendenza media del terreno: 10%
- presenza, a metà dell'area, della profonda incisione di un piccolo corso d'acqua;
- superficie totale disponibile: mq. 30.000;
- volume massimo residenziale realizzabile: mc. 6.000;
- utilizzo del terreno: oliveto terrazzato;
- esposizione: a ovest.

## Tema 2

Il candidato predisponga la planimetria e una sezione indicativa, alle scale ritenute più adeguate, dell'organizzazione urbanistica di un nuovo insediamento residenziale caratterizzato dai seguenti parametri:

- area di impianto di crinale, attraversata da un percorso pedonale lungo la linea di dislivello;
- presenza di terrazzamenti su entrambi i versanti del terreno;
- superficie totale disponibile: mq 25.000;
- volume massimo residenziale realizzabile: mc. 5.000;
- utilizzo attuale del terreno: macchia boschiva mediterranea;
- orientamento del crinale: sud;
- pendenza media del percorso pedonale: 15%.

The image shows several handwritten signatures in blue and black ink. The most prominent signature is in blue ink, written in a cursive style. Below it, there are several other signatures in black ink, some of which are more stylized and less legible. The signatures are located in the bottom right corner of the page.

ESAME DI STATO

PER L'ABILITAZIONE PROFESSIONALE ALL'ESERCIZIO DELLA PROFESSIONE DI ARCHITETTO

SEZIONE B – PIANIFICAZIONE TERRITORIALE

PRIMA PROVA SCRITTA

22 GIUGNO 2010

**Tema 1**


Il candidato predisponga la relazione illustrativa del tema 1 secondo i seguenti criteri:

- parametri progettuali prescelti;
- dati dimensionali;
- specificazione e quantificazione delle opere di urbanizzazione primaria;
- aspetti tecnologici.

**Tema 2**

Il candidato predisponga la relazione illustrativa del tema 2 secondo i seguenti criteri:

- parametri progettuali prescelti;
- dati dimensionali;
- specificazione e quantificazione delle opere di urbanizzazione primaria;
- aspetti tecnologici.



busta 2

ESAME DI STATO

PER L'ABILITAZIONE PROFESSIONALE ALL'ESERCIZIO DELLA PROFESSIONE DI ARCHITETTO

SEZIONE B – ARCHITETTURA

SECONDA PROVA SCRITTA

23 GIUGNO 2010

**Tema 1**


Le tecnologie e i materiali edilizi tradizionali nella prospettiva del risparmio energetico.  
Attraverso la citazione di tre opere architettoniche realizzate, di rilevanza nazionale/internazionale, il candidato focalizzi i nodi concettuali più importanti nel dibattito culturale odierno.  
Lunghezza massima: due facciate di foglio protocollo

**Tema 2**

Lo sviluppo della normativa sulla tutela del beni culturali in Italia da Fascismo ad oggi.  
Attraverso la citazione di tre momenti storici o di leggi particolarmente significativi il candidato focalizzi i nodi concettuali più importanti del fenomeno.  
Lunghezza massima: due facciate di foglio protocollo

**Tema 3**

L'evoluzione del concetto di *Cultural Landscape* nel corso degli ultimi due decenni.  
Attraverso la citazione di tre studi o di procedimenti normativi particolarmente significativi il candidato focalizzi i nodi concettuali più importanti del fenomeno.  
Lunghezza massima: due facciate di foglio protocollo

A large, stylized handwritten signature in black ink, consisting of several overlapping loops and lines, positioned in the lower right quadrant of the page.

busta 1

**ESAME DI STATO**

**PER L'ABILITAZIONE PROFESSIONALE ALL'ESERCIZIO DELLA PROFESSIONE DI ARCHITETTO**

**SEZIONE B – PIANIFICAZIONE TERRITORIALE**

**SECONDA PROVA SCRITTA**

**23 GIUGNO 2010**

**Tema 1**

Il ruolo delle regioni nella pianificazione territoriale.

Il candidato illustri sinteticamente i nodi fondamentali del tema.


Lunghezza massima: due facciate di foglio protocollo

**Tema 2**

Lo sviluppo del concetto di *standard* urbanistico.

Attraverso la citazione di tre piani urbanistici il candidato focalizzi i nodi concettuali più importanti del fenomeno.

Lunghezza massima: due facciate di foglio protocollo

The image shows several handwritten signatures and initials in black ink. At the top, there are two long, flowing signatures. Below them, there are several sets of initials, including a large 'RS' and a smaller 'li'. The handwriting is cursive and somewhat stylized.