

TEMA n° 1

Prima Prova Pratica

La cartografia è composta da una pianta in scala 1:100. L'edificio ha altezza in imposta di m. 5.00 e al colmo di m 9.30. E' sito nel Comune di Genova Pontedecimo. Trattasi di costruzione in muratura di pietra e mattoni con copertura in legno a due falde di nessun pregio che affaccia sul torrente Riccò, in zona residenziale.


In riferimento a quanto sopra indicato il candidato progetti la trasformazione del capannone in n° 2/3 alloggi residenziali.

Elaborati richiesti:

- pianta degli alloggi quotata e arredata in scala 1:100;
- almeno una sezione significativa dei nuovi alloggi in scala 1:100.

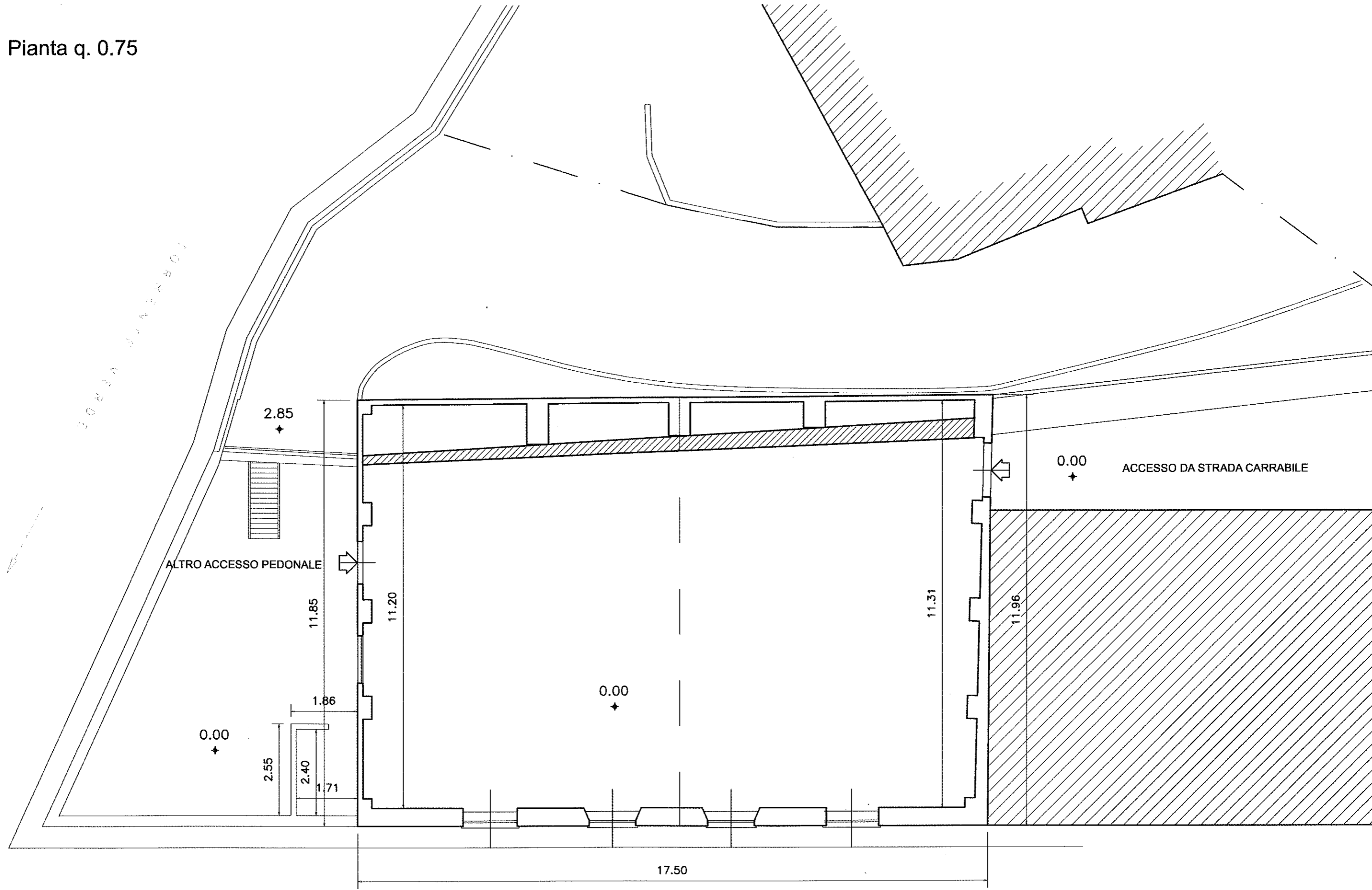
Prima Prova Scritta

In riferimento alla prova pratica affrontata, il candidato esegua breve relazione (massimo tre pagine di protocollo) che chiariscano le scelte progettuali facendo riferimento agli adempimenti normativi.



Handwritten signatures and initials in blue ink, including a large signature that appears to be 'M. B. B. B.' and a circular stamp containing the letter 'M'.

Pianta q. 0.75



ESAME DI STATO PER L'ABILITAZIONE ALL'ESERCIZIO DELLA PROFESSIONE DI ARCHITETTO Junior
Sessione Novembre 2014
Ordinanza Ministeriale n. 144 del 21 Febbraio 2014
SEZIONE B – ARCHITETTURA

hali
MM
Qu

ESAME DI STATO PER L'ABILITAZIONE ALL'ESERCIZIO DELLA PROFESSIONE DI ARCHITETTO Junior
Sessione Novembre 2014
Ordinanza Ministeriale n. 144 del 21 Febbraio 2014
SEZIONE B – ARCHITETTURA

TEMA n° 2

Seconda Prova Pratica

In un edificio costruito alla fine dell'800, il proprietario di due unità immobiliari una al piano primo e l'altra al piano secondo esattamente soprastante, ha la necessità di avere un unico appartamento con ingresso dal piano primo.

In riferimento a quanto sopra indicato il candidato progetti la nuova sistemazione interna dell'appartamento.

Elaborati richiesti:

- Piante di "Progetto" e "Confronto" (giallo: demolizioni; rosso: ricostruzioni) in scala 1:100;
- almeno una sezione in scala 1:100;
- particolare 1:50 o 1:20 della sezione della scala interna.

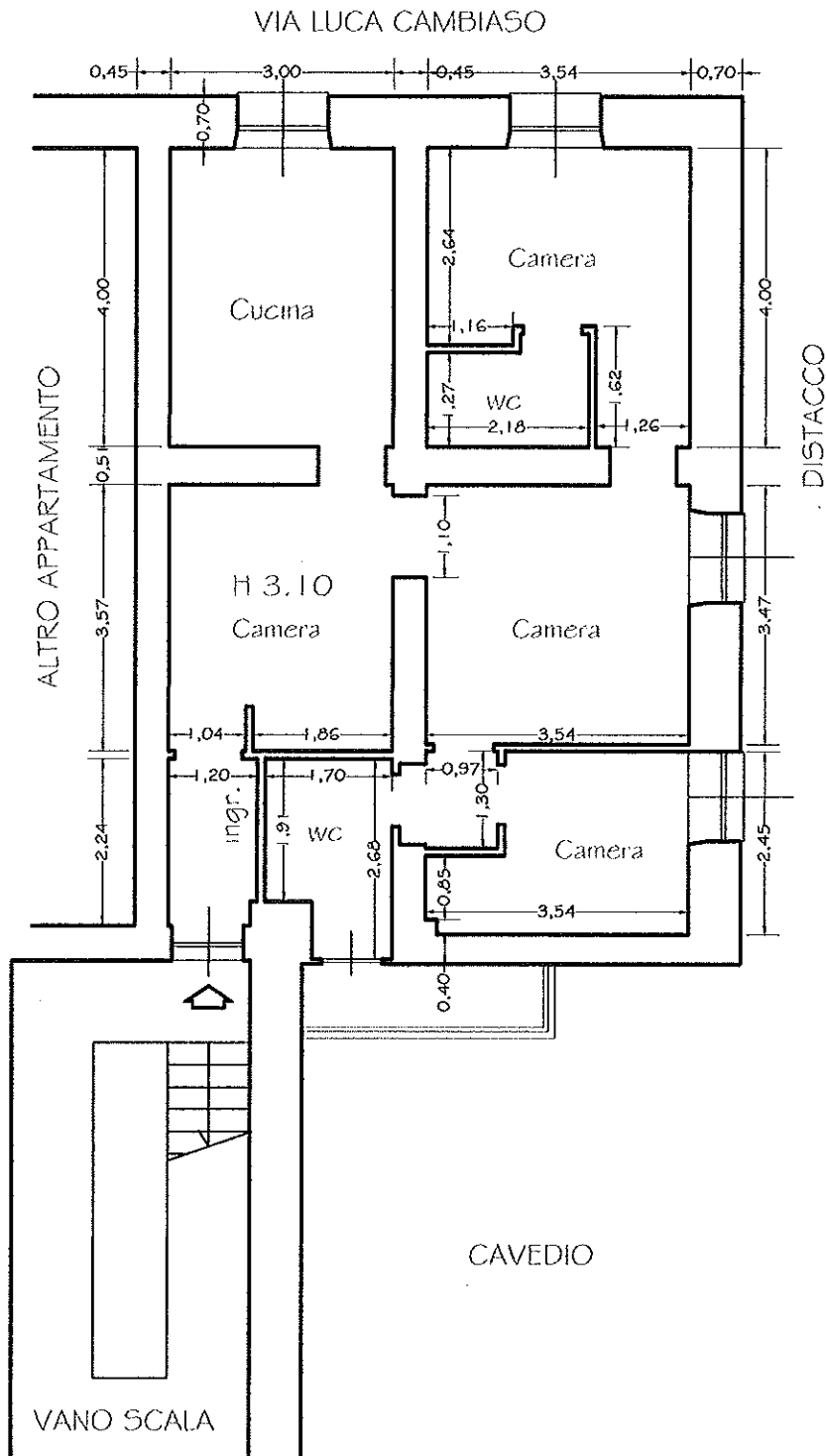
Seconda Prova Scritta

In riferimento alla prova pratica affrontata, il candidato esegua il computo metrico delle lavorazioni necessarie.

The image shows several handwritten signatures and initials in black ink. On the left, there is a signature that appears to be 'buchi'. To its right, there is a circular mark containing the letter 'M'. Below these, there are several other signatures and initials, including one that looks like 'P' and another that is more complex and stylized.

PIANO PRIMO

Scala 1:100

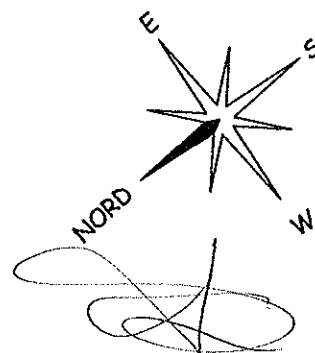
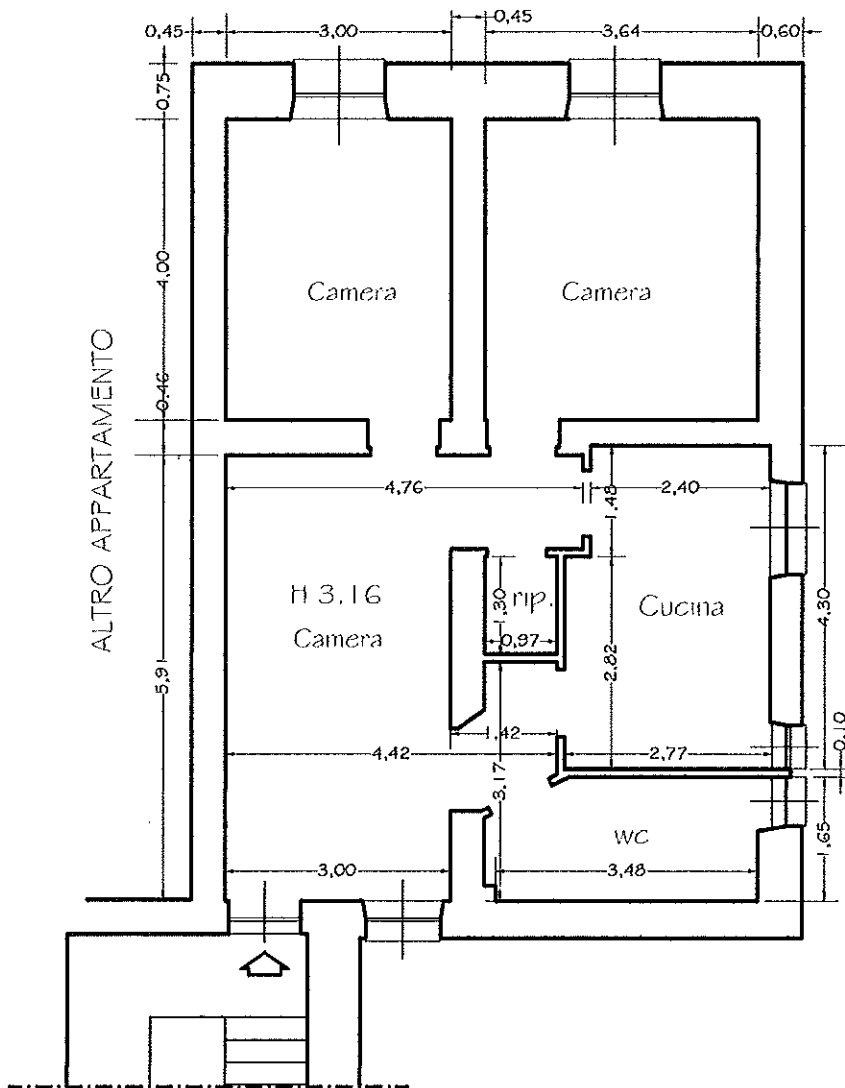


Spessore del solaio tra piano primo
e piano secondo 40 cm circa

belli
[Signature]
[Signature]
[Signature]

PIANO SECONDO

Scala 1:100



ESAME DI STATO PER L'ABILITAZIONE ALL'ESERCIZIO DELLA PROFESSIONE DI ARCHITETTO Junior
Sessione Novembre 2014
Ordinanza Ministeriale n. 144 del 21 Febbraio 2014
SEZIONE B – ARCHITETTURA

TEMA n° 3

Terza Prova Pratica

Data la planimetria di due appartamenti posti all'ultimo piano di una piccola palazzina (P.T. - P. 1° - P. 2°), il candidato progetti una nuova copertura a falde con struttura in legno e manto di copertura a scelta.


Si dovrà rappresentare graficamente la sezione indicata sulla pianta (A-A) tenuto conto che l'altezza interna è di m 2,70, quella di colmo m 4,20 e lo sporto di gronda di circa m 3,00 o a scelta del candidato.

Elaborati richiesti:

- schema della pianta di copertura in scala 1:100;
- sezione A-A in scala 1:100;
- particolare della sezione del tetto in scala a scelta del candidato.

Terza Prova Scritta

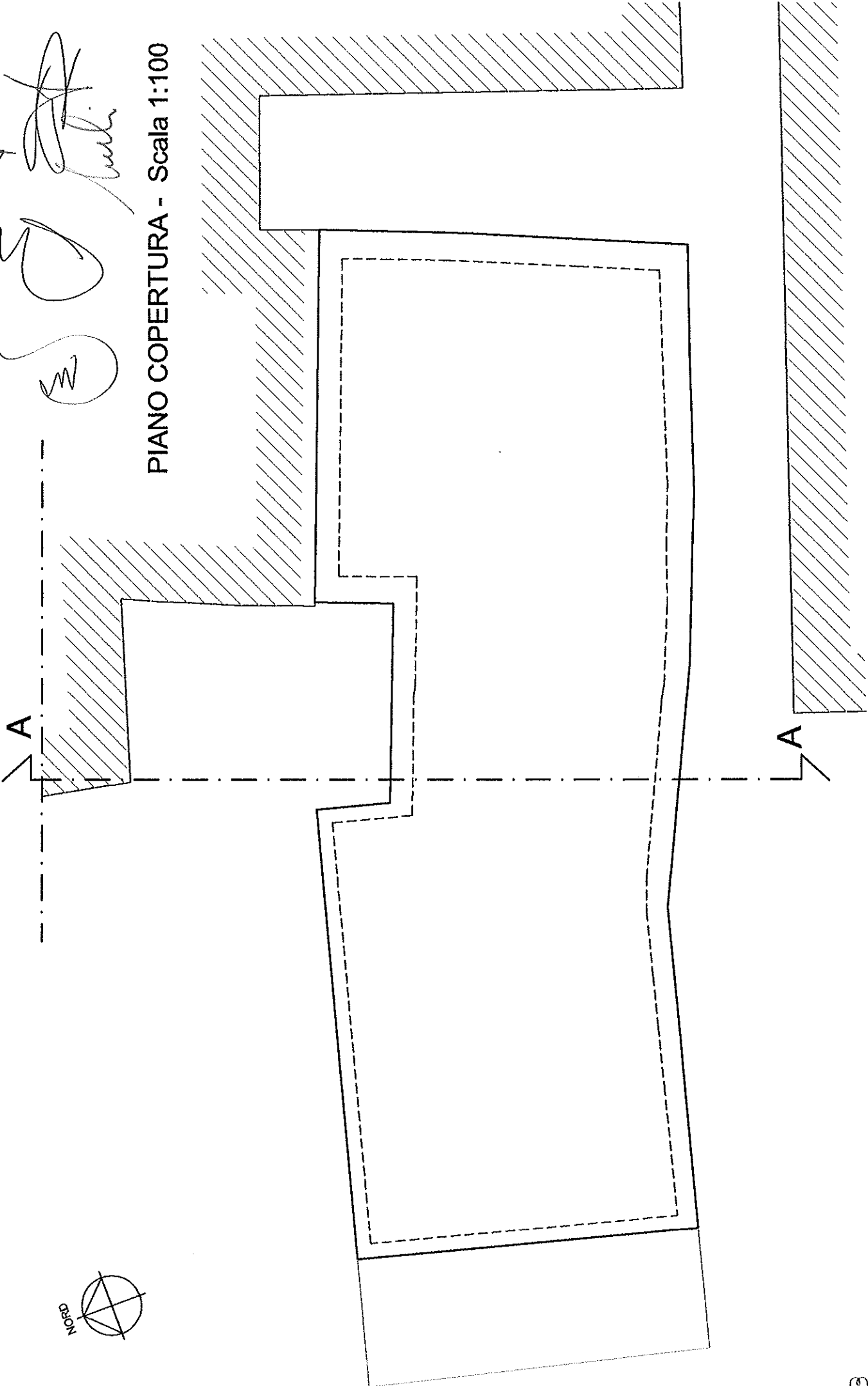
In riferimento alla prova pratica affrontata, il candidato esegua il computo metrico delle lavorazioni necessarie per la realizzazione del tetto.

Handwritten signature and scribbles, possibly indicating the end of the document or a specific mark.



Handwritten signatures and initials in the top left corner of the drawing area.

PIANO COPERTURA - Scala 1:100





A

PIANO SECONDO - Scala 1:100

